

0.5 setgray 0.5 setgray

Консультация 3

СИСТЕМЫ КООРДИНАТ И ПРЕОБРАЗОВАНИЕ БАЗИСА

ЗАДАЧА 1. Даны полярные координаты точек $A(8, -2\pi/3)$ и $B(6, \pi/3)$. Вычислить полярные координаты середины отрезка AB .

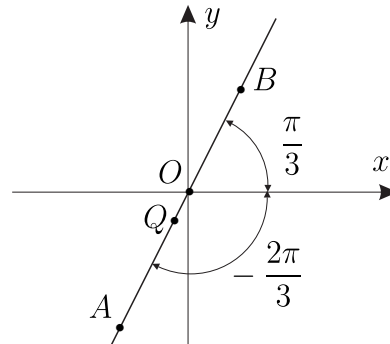


Рис. 1. К задаче 1.

Решение. Пусть O — это полюс. Для быстрого решения этой задачи нужно заметить, что угол между векторами \overrightarrow{OB} и \overrightarrow{OA} равен π . Общая длина отрезка AB равна 14. Поэтому координата центра C отрезка AB в системе координат на оси с началом координат в полюсе O будет равна -1 , т. е. в соответствующей полярной системе координат центр отрезка будет иметь координаты $(1, -2\pi/3)$.

ЗАДАЧА 2. Найти длину меньшей из двух дуг большого круга, соединяющей две точки A и B , лежащие на шаре радиуса r , зная широту и долготу этих точек $A(\varphi_1, \vartheta_1)$ и $B(\varphi_2, \vartheta_2)$.

Решение. Исходя из условий задачи прямоугольные координаты точек A и B имеют следующие координаты:

$$A(x_1, y_1, z_1), \quad B(x_2, y_2, z_2),$$

$$x_1 = r \cos \vartheta_1 \cos \varphi_1, \quad y_1 = r \cos \vartheta_1 \sin \varphi_1, \quad z_1 = r \sin \vartheta_1,$$

$$x_2 = r \cos \vartheta_2 \cos \varphi_2, \quad y_2 = r \cos \vartheta_2 \sin \varphi_2, \quad z_2 = r \sin \vartheta_2;$$

угол φ между векторами \overrightarrow{OA} и \overrightarrow{OB} определяется равенством

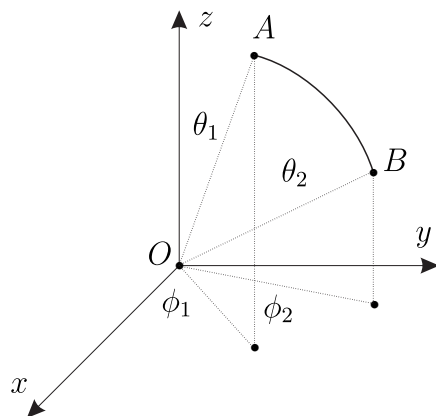


Рис. 2. К задаче 2.

$$\begin{aligned} \cos \varphi &= \frac{(\vec{OA}, \vec{OB})}{r^2} = \frac{(x_1x_2 + y_1y_2 + z_1z_2)}{r^2} = \\ &= \cos \vartheta_1 \cos \vartheta_2 \cos(\varphi_1 - \varphi_2) + \sin \vartheta_1 \sin \vartheta_2. \end{aligned}$$

Итак, длина дуги равна

$$s = r\varphi = r \arccos(\cos \vartheta_1 \cos \vartheta_2 \cos(\varphi_1 - \varphi_2) + \sin \vartheta_1 \sin \vartheta_2).$$

ЗАДАЧА 3. Нарисуйте на плоскости множества точек, полярные координаты которых связаны соотношениями а) $r = 2/\cos \varphi$, б) $r = 2 \cos \varphi$.

Решение. Рассмотрим сначала задачу а).

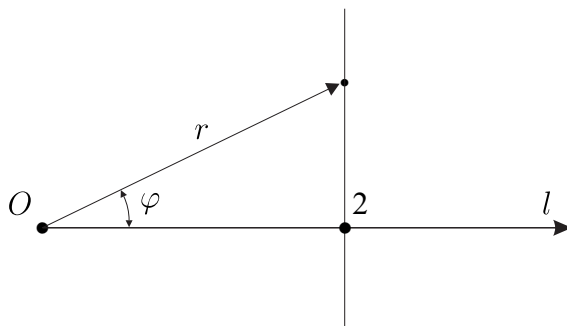


Рис. 3. К задаче 3 а).

Заметим, что при $\varphi \in (\pi/2, 3\pi/2)$ величина $r = 2/\cos \varphi < 0$ и поэтому этим углом не отвечает никакая кривая на плоскости. Реально это уравнение имеет смысл при $\varphi \in (0, \pi/2)$ и при $(3\pi/2, 2\pi)$. Это

уравнение можно переписать в следующем виде:

$$r \cos \varphi = 2,$$

но величина $r \cos \varphi$ — это проекция радиус-вектора точки на плоскости на полярную ось. Следовательно, искомая кривая это прямая, проходящая перпендикулярно к полярной оси l через точку на полярной оси с координатами $r = 2, \varphi = 0$.

Рассмотрим теперь задачу b).

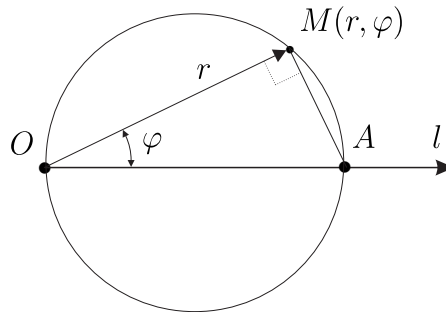


Рис. 4. К задаче 3 b).

При $\varphi \in (\pi/2, 3\pi/2)$ величина $r = 2 \cos \varphi < 0$ и поэтому этим углом не отвечает никакая точка искомой кривой. При $\varphi = 0$ имеем $r = 2$. При остальных углах $\varphi \in (0, \pi/2) \cup (3\pi/2, 2\pi)$ величина $2 \cos \varphi$ — это длина катета OM прямоугольного треугольника $\triangle OMA$, построенного на гипотенузе OA . Следовательно, искомая кривая — это окружность с диаметром OA .

ЗАДАЧА 4. Связь систем декартовых косоугольных координат $\{O, \mathbf{e}_1, \mathbf{e}_2\}$ и $\{O', \mathbf{e}'_1, \mathbf{e}'_2\}$ на плоскости.

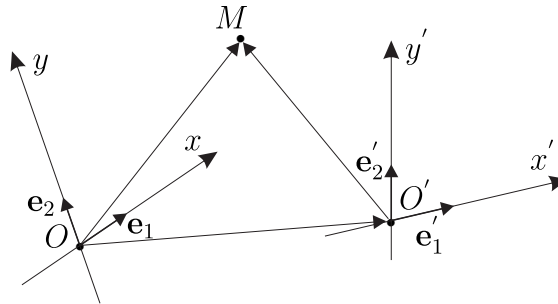


Рис. 5. К задаче 4.

Решение. Поскольку $\{\mathbf{e}_1, \mathbf{e}_2\}$ — это базис, т.е. линейно независимое семейство векторов, через которые можно представить любой

другой вектор плоскости, то другой базис $\{\mathbf{e}'_1, \mathbf{e}'_2\}$ можно разложить следующим однозначным образом:

$$\mathbf{e}'_1 = a_{11}\mathbf{e}_1 + a_{21}\mathbf{e}_2, \quad \mathbf{e}'_2 = a_{12}\mathbf{e}_1 + a_{22}\mathbf{e}_2. \quad (0.1)$$

Равенство (0.1) можно записать в компактной матричной форме, но в привлечением понятия умножения матрицы на строчку:

$$(\mathbf{e}'_1, \mathbf{e}'_2) = (\mathbf{e}_1, \mathbf{e}_2) \cdot S, \quad S = \begin{pmatrix} a_{11} & a_{12} \\ a_{21} & a_{22} \end{pmatrix}. \quad (0.2)$$

Это правило умножения называется правилом умножения «строчку на столбец». Прежде всего рассмотрим правило умножения строчки на столбец:

$$(a_1, a_2) \times \begin{pmatrix} b_1 \\ b_2 \end{pmatrix} = a_1b_1 + a_2b_2.$$

Нам потребуются ещё два варианта этого правила. Первое равенство

$$(a, b) \times \begin{pmatrix} a_{11} & a_{12} \\ a_{21} & a_{22} \end{pmatrix} = (a \cdot a_{11} + b \cdot a_{21}, a \cdot a_{12} + b \cdot a_{22}), \quad (0.3)$$

т. е. результатом умножения является строчка длины 2. Теперь рассмотрим следующее выражение:

$$\begin{pmatrix} a_{11} & a_{12} \\ a_{21} & a_{22} \end{pmatrix} \times \begin{pmatrix} a \\ b \end{pmatrix} = \begin{pmatrix} a_{11} \cdot a + a_{12} \cdot b \\ a_{21} \cdot a + a_{22} \cdot b \end{pmatrix}, \quad (0.4)$$

т. е. результатом умножения является столбец длины 2. В силу равенства (0.3) справедливо следующее равенство:

$$(\mathbf{e}_1, \mathbf{e}_2) \times \begin{pmatrix} a_{11} & a_{12} \\ a_{21} & a_{22} \end{pmatrix} = (a_{11}\mathbf{e}_1 + a_{21}\mathbf{e}_2, a_{12}\mathbf{e}_1 + a_{22}\mathbf{e}_2),$$

а из равенства двух строк одной длины

$$(\mathbf{e}'_1, \mathbf{e}'_2) = (a_{11}\mathbf{e}_1 + a_{21}\mathbf{e}_2, a_{12}\mathbf{e}_1 + a_{22}\mathbf{e}_2)$$

мы получим равенства (0.1).

$$\overrightarrow{OM} = \overrightarrow{OO'} + \overrightarrow{O'M}, \quad (0.5)$$

$$\overrightarrow{OO'} = \alpha\mathbf{e}_1 + \beta\mathbf{e}_2 = (\mathbf{e}_1, \mathbf{e}_2) \cdot \begin{pmatrix} \alpha \\ \beta \end{pmatrix}, \quad (0.6)$$

$$\overrightarrow{OM} = x\mathbf{e}_1 + y\mathbf{e}_2 = (\mathbf{e}_1, \mathbf{e}_2) \cdot \begin{pmatrix} x \\ y \end{pmatrix}, \quad (0.7)$$

$$\overrightarrow{O'M} = x'\mathbf{e}'_1 + y'\mathbf{e}'_2 = (\mathbf{e}'_1, \mathbf{e}'_2) \cdot \begin{pmatrix} x' \\ y' \end{pmatrix}. \quad (0.8)$$

Заметим, что справедливо следующее равенство:

$$\begin{aligned}
(\mathbf{e}_1, \mathbf{e}_2) \times \left[\begin{pmatrix} b_1 \\ b_2 \end{pmatrix} + \begin{pmatrix} c_1 \\ c_2 \end{pmatrix} \right] &= (\mathbf{e}_1, \mathbf{e}_2) \times \begin{pmatrix} b_1 + c_1 \\ b_2 + c_2 \end{pmatrix} = \\
&= \mathbf{e}_1(b_1 + c_1) + \mathbf{e}_2(b_2 + c_2) = \mathbf{e}_1 b_1 + b_2 \mathbf{e}_2 + \mathbf{e}_1 c_1 + \mathbf{e}_2 c_2 = \\
&= (\mathbf{e}_1, \mathbf{e}_2) \begin{pmatrix} b_1 \\ b_2 \end{pmatrix} + (\mathbf{e}_1, \mathbf{e}_2) \begin{pmatrix} c_1 \\ c_2 \end{pmatrix}. \quad (0.9)
\end{aligned}$$

Справедливо следующее равенство:

$$\begin{aligned}
(\mathbf{e}_1, \mathbf{e}_2) \begin{pmatrix} x \\ y \end{pmatrix} &= (\mathbf{e}_1, \mathbf{e}_2) \begin{pmatrix} \alpha \\ \beta \end{pmatrix} + (\mathbf{e}'_1, \mathbf{e}'_2) \begin{pmatrix} x' \\ y' \end{pmatrix} = \\
&= (\mathbf{e}_1, \mathbf{e}_2) \begin{pmatrix} \alpha \\ \beta \end{pmatrix} + (\mathbf{e}_1, \mathbf{e}_2) S \begin{pmatrix} x' \\ y' \end{pmatrix}. \quad (0.10)
\end{aligned}$$

Заметим, что

$$S \times \begin{pmatrix} x' \\ y' \end{pmatrix} = \begin{pmatrix} a_{11} & a_{12} \\ a_{21} & a_{22} \end{pmatrix} \begin{pmatrix} x' \\ y' \end{pmatrix} = \begin{pmatrix} a_{11}x' + a_{12}y' \\ a_{21}x' + a_{22}y' \end{pmatrix},$$

т.е. это некоторый столбец. Итак, приходим к равенству

$$(\mathbf{e}_1, \mathbf{e}_2) \left[\begin{pmatrix} x \\ y \end{pmatrix} - \begin{pmatrix} \alpha \\ \beta \end{pmatrix} - S \times \begin{pmatrix} x' \\ y' \end{pmatrix} \right] = (\mathbf{e}_1, \mathbf{e}_2) \begin{pmatrix} 0 \\ 0 \end{pmatrix} = \mathbf{0}. \quad (0.11)$$

Выражение в квадратных скобках — это некоторый столбец:

$$\begin{pmatrix} b_1 \\ b_2 \end{pmatrix} := \begin{pmatrix} x \\ y \end{pmatrix} - \begin{pmatrix} \alpha \\ \beta \end{pmatrix} - S \times \begin{pmatrix} x' \\ y' \end{pmatrix}. \quad (0.12)$$

$$(\mathbf{e}_1, \mathbf{e}_2) \times \begin{pmatrix} b_1 \\ b_2 \end{pmatrix} = \begin{pmatrix} 0 \\ 0 \end{pmatrix}. \quad (0.13)$$

Это согласно правилу умножению «строка на столбец» приходим к уравнению:

$$b_1 \mathbf{e}_1 + b_2 \mathbf{e}_2 = \mathbf{0} \Leftrightarrow b_1 = b_2 = 0 \Leftrightarrow \begin{pmatrix} b_1 \\ b_2 \end{pmatrix} = \begin{pmatrix} 0 \\ 0 \end{pmatrix}.$$

Следовательно, имеет место следующее равенство:

$$\begin{pmatrix} x \\ y \end{pmatrix} = \begin{pmatrix} \alpha \\ \beta \end{pmatrix} + S \begin{pmatrix} x' \\ y' \end{pmatrix}.$$

ЗАДАЧА 5. Даны две произвольные (косоугольные) декартовы системы координат $\{O, \mathbf{e}_1, \mathbf{e}_2, \mathbf{e}_3\}$ и $\{O', \mathbf{e}'_1, \mathbf{e}'_2, \mathbf{e}'_3\}$. Найти формулы связывающие координаты (x, y, z) и (x', y', z') одной и той же точки пространства M в этих системах координат.

Решение. Запишем в матричной форме разложения нового базиса $(\mathbf{e}'_1, \mathbf{e}'_2, \mathbf{e}'_3)$ по старому базису $\{\mathbf{e}_1, \mathbf{e}_2, \mathbf{e}_3\}$. Действительно, поскольку

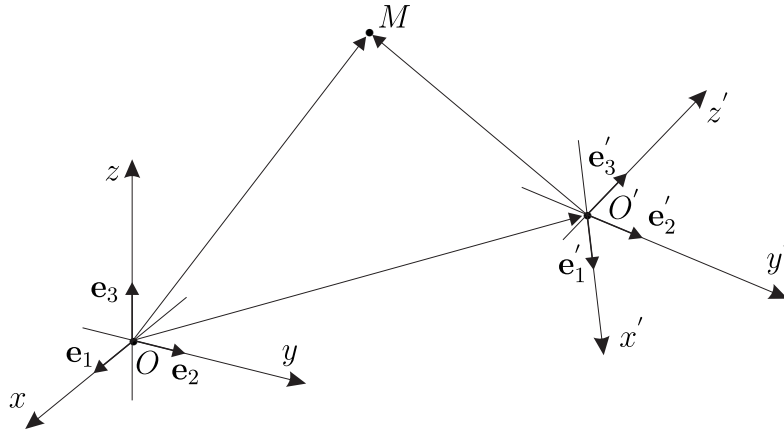


Рис. 6. К задаче 5.

$\{\mathbf{e}_1, \mathbf{e}_2, \mathbf{e}_3\}$ — это базис, то векторы семейства $\{\mathbf{e}'_1, \mathbf{e}'_2, \mathbf{e}'_3\}$ можно однозначно разложить по семейству $\{\mathbf{e}_1, \mathbf{e}_2, \mathbf{e}_3\}$:

$$\mathbf{e}'_1 = a_{11}\mathbf{e}_1 + a_{21}\mathbf{e}_2 + a_{31}\mathbf{e}_3, \quad (0.14)$$

$$\mathbf{e}'_2 = a_{12}\mathbf{e}_1 + a_{22}\mathbf{e}_2 + a_{32}\mathbf{e}_3, \quad (0.15)$$

$$\mathbf{e}'_3 = a_{13}\mathbf{e}_1 + a_{23}\mathbf{e}_2 + a_{33}\mathbf{e}_3. \quad (0.16)$$

Равенства (0.14)–(0.16) можно записать в следующей компактной форме:

$$(\mathbf{e}'_1, \mathbf{e}'_2, \mathbf{e}'_3) = (\mathbf{e}_1, \mathbf{e}_2, \mathbf{e}_3) \cdot S, \quad S = \begin{pmatrix} a_{11} & a_{12} & a_{13} \\ a_{21} & a_{22} & a_{23} \\ a_{31} & a_{32} & a_{33} \end{pmatrix}. \quad (0.17)$$

Действительно, применим правило умножения «строка на столбец» в трёх различных ситуациях. Первый случай:

$$(a_1, a_2, a_3) \times \begin{pmatrix} b_1 \\ b_2 \\ b_3 \end{pmatrix} = a_1b_1 + a_2b_2 + a_3b_3.$$

Второй случай:

$$(b_1, b_2, b_3) \times \begin{pmatrix} a_{11} & a_{12} & a_{13} \\ a_{21} & a_{22} & a_{23} \\ a_{31} & a_{32} & a_{33} \end{pmatrix} = (c_1, c_2, c_3),$$

где

$$c_1 = b_1a_{11} + b_2a_{21} + b_3a_{31},$$

$$c_2 = b_1a_{12} + b_2a_{22} + b_3a_{32},$$

$$c_3 = b_1a_{13} + b_2a_{23} + b_3a_{33}.$$

Третий случай:

$$\begin{pmatrix} a_{11} & a_{12} & a_{13} \\ a_{21} & a_{22} & a_{23} \\ a_{31} & a_{32} & a_{33} \end{pmatrix} \times \begin{pmatrix} b_1 \\ b_2 \\ b_3 \end{pmatrix} = \begin{pmatrix} d_1 \\ d_2 \\ d_3 \end{pmatrix},$$

где

$$d_1 = a_{11}b_1 + a_{12}b_2 + a_{13}b_3,$$

$$d_2 = a_{21}b_1 + a_{22}b_2 + a_{23}b_3,$$

$$d_3 = a_{31}b_1 + a_{32}b_2 + a_{33}b_3.$$

Пусть

$$\overrightarrow{OO'} = (\mathbf{e}_1, \mathbf{e}_2, \mathbf{e}_3) \cdot B, \quad B = \begin{pmatrix} \alpha \\ \beta \\ \gamma \end{pmatrix};$$

Наконец,

$$\overrightarrow{OM} = \overrightarrow{OO'} + \overrightarrow{O'M}, \quad (0.18)$$

причём имеем

$$\overrightarrow{OM} = (\mathbf{e}_1, \mathbf{e}_2, \mathbf{e}_3) \cdot X, \quad X = \begin{pmatrix} x \\ y \\ z \end{pmatrix},$$

$$\overrightarrow{O'M} = (\mathbf{e}'_1, \mathbf{e}'_2, \mathbf{e}'_3) \cdot X', \quad X' = \begin{pmatrix} x' \\ y' \\ z' \end{pmatrix}.$$

Отсюда и из равенства (0.18) получим следующее выражение:

$$\begin{aligned} (\mathbf{e}_1, \mathbf{e}_2, \mathbf{e}_3) \cdot X &= (\mathbf{e}_1, \mathbf{e}_2, \mathbf{e}_3) \cdot B + (\mathbf{e}'_1, \mathbf{e}'_2, \mathbf{e}'_3) \cdot X' = \\ &= (\mathbf{e}_1, \mathbf{e}_2, \mathbf{e}_3) \cdot B + (\mathbf{e}_1, \mathbf{e}_2, \mathbf{e}_3) \cdot S \cdot X'. \end{aligned} \quad (0.19)$$

Отсюда получаем равенство

$$(\mathbf{e}_1, \mathbf{e}_2, \mathbf{e}_3) \cdot (X - B - S \cdot X') = 0 \Rightarrow X = B + S \cdot X'.$$

ЗАДАЧА 6. Пусть O' — это середина отрезка AB . Найти формулы перехода от репера $\{O, \overrightarrow{OB}, \overrightarrow{OA}\}$ к реперу $\{O', \overrightarrow{O'O}, \overrightarrow{O'B}\}$.

Решение. Для удобства введём обозначения:

$$\mathbf{e}_1 = \overrightarrow{OB}, \quad \mathbf{e}_2 = \overrightarrow{OA}, \quad \mathbf{e}'_1 = \overrightarrow{O'O}, \quad \mathbf{e}'_2 = \overrightarrow{O'B}.$$

Справедливы следующие равенства:

$$\mathbf{e}'_1 = \overrightarrow{O'O} = -\overrightarrow{OO'} = -\frac{1}{2}(\overrightarrow{OB} + \overrightarrow{OA}) = -\frac{1}{2}\mathbf{e}_1 - \frac{1}{2}\mathbf{e}_2;$$

$$\mathbf{e}'_2 = \overrightarrow{O'B} = \overrightarrow{OB} - \overrightarrow{OO'} = \mathbf{e}_1 - \frac{1}{2}\mathbf{e}_1 - \frac{1}{2}\mathbf{e}_2 = \frac{1}{2}\mathbf{e}_1 - \frac{1}{2}\mathbf{e}_2.$$

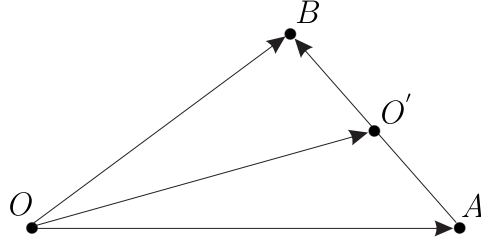


Рис. 7. К задаче 6.

Итак, имеем

$$(\mathbf{e}'_1, \mathbf{e}'_2) = (\mathbf{e}_1, \mathbf{e}_2) \begin{pmatrix} -1/2 & 1/2 \\ -1/2 & -1/2 \end{pmatrix}.$$

Для произвольной точки плоскости M имеет место следующее равенство:

$$\overrightarrow{OM} = \overrightarrow{OO'} + \overrightarrow{O'M},$$

где

$$\overrightarrow{OM} = (\mathbf{e}_1, \mathbf{e}_2) \begin{pmatrix} x \\ y \end{pmatrix}, \quad \overrightarrow{O'M} = (\mathbf{e}'_1, \mathbf{e}'_2) \begin{pmatrix} x' \\ y' \end{pmatrix}, \quad \overrightarrow{OO'} = (\mathbf{e}_1, \mathbf{e}_2) \begin{pmatrix} 1/2 \\ 1/2 \end{pmatrix}.$$

Таким образом, имеем

$$\begin{aligned} (\mathbf{e}_1, \mathbf{e}_2) \begin{pmatrix} x \\ y \end{pmatrix} &= (\mathbf{e}_1, \mathbf{e}_2) \begin{pmatrix} 1/2 \\ 1/2 \end{pmatrix} + (\mathbf{e}'_1, \mathbf{e}'_2) \begin{pmatrix} x' \\ y' \end{pmatrix} = \\ &= (\mathbf{e}_1, \mathbf{e}_2) \begin{pmatrix} 1/2 \\ 1/2 \end{pmatrix} + (\mathbf{e}_1, \mathbf{e}_2) \begin{pmatrix} -1/2 & 1/2 \\ -1/2 & -1/2 \end{pmatrix} \begin{pmatrix} x' \\ y' \end{pmatrix}. \end{aligned}$$

В силу того, что векторы \mathbf{e}_1 и \mathbf{e}_2 являются линейно независимыми мы приходим к формуле

$$\begin{pmatrix} x \\ y \end{pmatrix} = \begin{pmatrix} 1/2 \\ 1/2 \end{pmatrix} + \begin{pmatrix} -1/2 & 1/2 \\ -1/2 & -1/2 \end{pmatrix} \begin{pmatrix} x' \\ y' \end{pmatrix}.$$

Или покомпонентно имеем

$$x = \frac{1}{2} - \frac{1}{2}x' + \frac{1}{2}y', \quad y = \frac{1}{2} - \frac{1}{2}x' - \frac{1}{2}y'.$$

ЗАДАЧА 7. Дана декартова система координат с репером $\{O, \mathbf{e}_1, \mathbf{e}_2, \mathbf{e}_3\}$. Как расположена относительно неё декартова система координат с репером $\{O, \mathbf{e}'_1, \mathbf{e}'_2, \mathbf{e}'_3\}$, если формулы перехода имеют следующий вид

$$x = 1 - y' - z', \quad y = 1 - x' - z', \quad z = 1 - x' - y'.$$

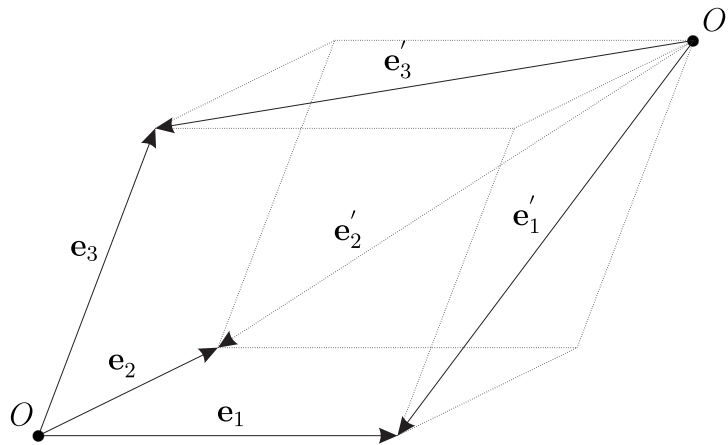


Рис. 8. К задаче 4.

Решение. Согласно общим формулам имеем

$$\begin{pmatrix} x \\ y \\ z \end{pmatrix} = \begin{pmatrix} 1 \\ 1 \\ 1 \end{pmatrix} + R \begin{pmatrix} x' \\ y' \\ z' \end{pmatrix}, \quad R = \begin{pmatrix} 0 & -1 & -1 \\ -1 & 0 & -1 \\ -1 & -1 & 0 \end{pmatrix}.$$

Поэтому имеем

$$(\mathbf{e}'_1, \mathbf{e}'_2, \mathbf{e}'_3) = (\mathbf{e}_1, \mathbf{e}_2, \mathbf{e}_3)R.$$

Следовательно,

$$\mathbf{e}'_1 = -\mathbf{e}_2 - \mathbf{e}_3, \quad \mathbf{e}'_2 = -\mathbf{e}_1 - \mathbf{e}_3, \quad \mathbf{e}'_3 = -\mathbf{e}_1 - \mathbf{e}_2;$$

$$\overrightarrow{OO'} = \mathbf{e}_1 + \mathbf{e}_2 + \mathbf{e}_3.$$

Теперь мы можем приступить к анализу расположения ортов новой системы координат относительно старой. Начало O' новой декартовой системы координат расположено в вершине параллелограмма, которая не лежит ни в одной из координатных плоскостей старой системы координат. Концы векторов $\{\mathbf{e}'_1, \mathbf{e}'_2, \mathbf{e}'_3\}$, отложенного от точки O' , совпадают с концами векторов $\{\mathbf{e}_1, \mathbf{e}_2, \mathbf{e}_3\}$ соответственно, которые отложены от точки O .

ЗАДАЧА 8. В пространстве задана некоторая декартова система координат $\{O, \mathbf{e}_1, \mathbf{e}_2, \mathbf{e}_3\}$. Точки $A(1, 0, 0)$, $B(0, 2, 0)$, $C(-1, 2, 0)$, $D(0, 0, 2)$ — это вершины тетраэдра $ABCD$, точки K и L — соответственно середины ребер $[AC]$ и $[DB]$. Найдите матрицу перехода S_2 от системы координат $\{A, \overrightarrow{AB}, \overrightarrow{AC}, \overrightarrow{AD}\}$ к системе координат $\{B, \overrightarrow{AC}, \overrightarrow{KL}, \overrightarrow{DB}\}$. Напишите формулы перехода от первой системы координат ко второй.

Решение.

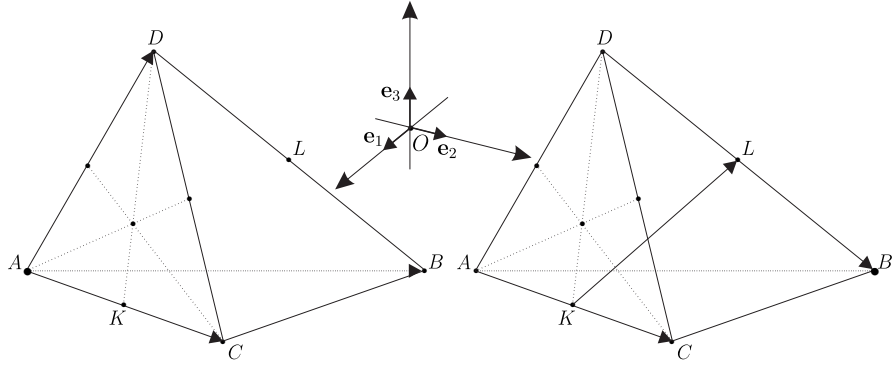


Рис. 9. К задаче 8.

Первый способ. Решение проведём за три шага.

Шаг 1. По определению координат точек имеем

$$\vec{OA} = (\mathbf{e}_1, \mathbf{e}_2, \mathbf{e}_3) \cdot \begin{pmatrix} 1 \\ 0 \\ 0 \end{pmatrix} = \mathbf{e}_1; \quad \vec{OB} = (\mathbf{e}_1, \mathbf{e}_2, \mathbf{e}_3) \cdot \begin{pmatrix} 0 \\ 2 \\ 0 \end{pmatrix} = 2\mathbf{e}_2;$$

$$\vec{OC} = (\mathbf{e}_1, \mathbf{e}_2, \mathbf{e}_3) \cdot \begin{pmatrix} -1 \\ 2 \\ 0 \end{pmatrix} = -\mathbf{e}_1 + 2\mathbf{e}_2; \quad \vec{OD} = (\mathbf{e}_1, \mathbf{e}_2, \mathbf{e}_3) \cdot \begin{pmatrix} 0 \\ 0 \\ 2 \end{pmatrix} = 2\mathbf{e}_3.$$

Стало быть, имеем

$$\vec{AB} = \vec{OB} - \vec{OA} = 2\mathbf{e}_2 - \mathbf{e}_1, \quad \vec{AC} = \vec{OC} - \vec{OA} = -2\mathbf{e}_1 + 2\mathbf{e}_2, \\ \vec{AD} = \vec{OD} - \vec{OA} = 2\mathbf{e}_3 - \mathbf{e}_1.$$

Заметим, что

$$\mathbf{e}_1 = \vec{AB} - \vec{AC}, \quad \mathbf{e}_2 = \frac{1}{2}\mathbf{e}_1 + \frac{1}{2}\vec{AB} = \vec{AB} - \frac{1}{2}\vec{AC}, \\ \mathbf{e}_3 = \frac{1}{2}\mathbf{e}_1 + \frac{1}{2}\vec{AD} = \frac{1}{2}\vec{AB} - \frac{1}{2}\vec{AC} + \frac{1}{2}\vec{AD}.$$

Итак, имеет место следующая формула перехода от базиса $(\vec{AB}, \vec{AC}, \vec{AD})$ к базису $(\mathbf{e}_1, \mathbf{e}_2, \mathbf{e}_3)$:

$$(\mathbf{e}_1, \mathbf{e}_2, \mathbf{e}_3) = (\vec{AB}, \vec{AC}, \vec{AD}) \cdot S, \quad S = \begin{pmatrix} 1 & 1 & 1/2 \\ -1 & -1/2 & -1/2 \\ 0 & 0 & 1/2 \end{pmatrix}. \quad (0.20)$$

Шаг 2. Найдём матрицу S_1 перехода от базиса $(\mathbf{e}_1, \mathbf{e}_2, \mathbf{e}_3)$ к базису $(\vec{AC}, \vec{KL}, \vec{DB})$. Справедливы следующие формулы:

$$\vec{OK} = \frac{1}{2}(\vec{OA} + \vec{OC}) = \frac{1}{2}(\mathbf{e}_1 - \mathbf{e}_1 + 2\mathbf{e}_2) = \mathbf{e}_2,$$

$$\begin{aligned}\overrightarrow{OL} &= \frac{1}{2} (\overrightarrow{OB} + \overrightarrow{OD}) = \frac{1}{2} (2\mathbf{e}_2 + 2\mathbf{e}_3) = \mathbf{e}_2 + \mathbf{e}_3. \\ \overrightarrow{KL} &= \overrightarrow{OL} - \overrightarrow{OK} = \mathbf{e}_3; \quad \overrightarrow{AC} = \overrightarrow{OC} - \overrightarrow{OA} = -\mathbf{e}_1 + 2\mathbf{e}_2 - \mathbf{e}_1; \\ \overrightarrow{DB} &= \overrightarrow{OB} - \overrightarrow{OD} = 2\mathbf{e}_2 - 2\mathbf{e}_3.\end{aligned}$$

Итак, имеем

$$(\overrightarrow{AC}, \overrightarrow{KL}, \overrightarrow{DB}) = (\mathbf{e}_1, \mathbf{e}_2, \mathbf{e}_3) \cdot S_1, \quad S_1 = \begin{pmatrix} -2 & 0 & 0 \\ 2 & 0 & 2 \\ 0 & 1 & -2 \end{pmatrix}. \quad (0.21)$$

Шаг 3. Из формул (0.20) и (0.21) имеем

$$(\overrightarrow{AC}, \overrightarrow{KL}, \overrightarrow{DB}) = (\mathbf{e}_1, \mathbf{e}_2, \mathbf{e}_3) \cdot S_1 = (\overrightarrow{AB}, \overrightarrow{AC}, \overrightarrow{AD}) \cdot S \cdot S_1 \Rightarrow S_2 = S \cdot S_1.$$

Поскольку

$$\overrightarrow{AB} = (\overrightarrow{AB}, \overrightarrow{AC}, \overrightarrow{AD}) \cdot Z, \quad Z = \begin{pmatrix} 1 \\ 0 \\ 0 \end{pmatrix},$$

то имеем окончательную формулу связи координат X' точки M в системе координат $\{B, \overrightarrow{AC}, \overrightarrow{KL}, \overrightarrow{DB}\}$ с координатами X в системе координат $\{A, \overrightarrow{AB}, \overrightarrow{AC}, \overrightarrow{AD}\}$:

$$X = \begin{pmatrix} x \\ y \\ z \end{pmatrix} = \begin{pmatrix} 1 \\ 0 \\ 0 \end{pmatrix} + S_2 \cdot \begin{pmatrix} x' \\ y' \\ z' \end{pmatrix}, \quad (0.22)$$

где

$$S_2 = S \cdot S_1 = \begin{pmatrix} 0 & 1/2 & 1 \\ 1 & -1/2 & 0 \\ 0 & 1/2 & -1 \end{pmatrix}.$$

Второй способ. Этот способ основан на непосредственном выражении элементов новой декартовой системы координат $\{B, \overrightarrow{AC}, \overrightarrow{KL}, \overrightarrow{DB}\}$ через старую систему координат $\{A, \overrightarrow{AB}, \overrightarrow{AC}, \overrightarrow{AD}\}$. Имеем

$$\overrightarrow{AB} = (\overrightarrow{AB}, \overrightarrow{AC}, \overrightarrow{AD}) \cdot \begin{pmatrix} 1 \\ 0 \\ 0 \end{pmatrix}, \quad \overrightarrow{AC} = (\overrightarrow{AB}, \overrightarrow{AC}, \overrightarrow{AD}) \cdot \begin{pmatrix} 0 \\ 1 \\ 0 \end{pmatrix};$$

$$\begin{aligned}\overrightarrow{KL} &= \frac{1}{2} (\overrightarrow{AD} + \overrightarrow{CB}) = \\ &= \frac{1}{2} (\overrightarrow{AD} + \overrightarrow{AB} - \overrightarrow{AC}) = (\overrightarrow{AB}, \overrightarrow{AC}, \overrightarrow{AD}) \cdot \begin{pmatrix} 1/2 \\ -1/2 \\ 1/2 \end{pmatrix};\end{aligned}$$

$$\overrightarrow{DB} = \overrightarrow{AB} - \overrightarrow{AD} = (\overrightarrow{AB}, \overrightarrow{AC}, \overrightarrow{AD}) \cdot \begin{pmatrix} 1 \\ 0 \\ -1 \end{pmatrix}.$$

Следовательно,

$$(\overrightarrow{AC}, \overrightarrow{KL}, \overrightarrow{DB}) = (\overrightarrow{AB}, \overrightarrow{AC}, \overrightarrow{AD}) \cdot S_2, \quad S_2 = \begin{pmatrix} 0 & 1/2 & 1 \\ 1 & -1/2 & 0 \\ 0 & 1/2 & -1 \end{pmatrix}.$$

В координатах имеем

$$\begin{pmatrix} x \\ y \\ z \end{pmatrix} = \begin{pmatrix} 1 \\ 0 \\ 0 \end{pmatrix} + S_2 \cdot \begin{pmatrix} x' \\ y' \\ z' \end{pmatrix}.$$